

2021(Odd)

Time : 3 Hrs.

Sem. V / Arch. Asst.
Model Making Lab - II

Full Marks : 50

Pass Marks : 20

- Each question carries equal marks.
प्रत्येक प्रश्न का मान बराबर है।
- Perform any one experiment/study and furnish it report
किसी एक प्रयोग/अध्ययन को सम्पन्न करें एवं इसका पूर्ण प्रतिवेदन
तैयार करें।
- Experiment will be allotted through lottery to examinee/group
of examinees.
प्रयोग का आवंटन परीक्षार्थी/परीक्षार्थियों के समूह को लॉटरी के ?
आधार पर किया जाएगा।
- Necessary calculations, drawings and other works shall be
done individually.
आवश्यक गणना, आरेखन एवं अन्य कार्य व्यक्तिगत रूप से किये
जायेंगे।

a) Practical exercise book वर्ग में किये गए प्रयोगों की पुस्तिका	Intr. Comm.	Extrn. Comm.
b) Process of experiment and result परिष्करण की विधि एवं निष्कर्ष	04	15
c) Viva - voce मौखिक प्रश्न	07	20
	04	-

P.T.O

- Make a 3D Model using block board for a two
bedroom residential building for an Architect with
site development, showing security room, internal
road, lawn, trees, electric campus etc.
on plot of 15m x 20m. Use suitable scale for the
model. Refer figure - 1 for site detail.

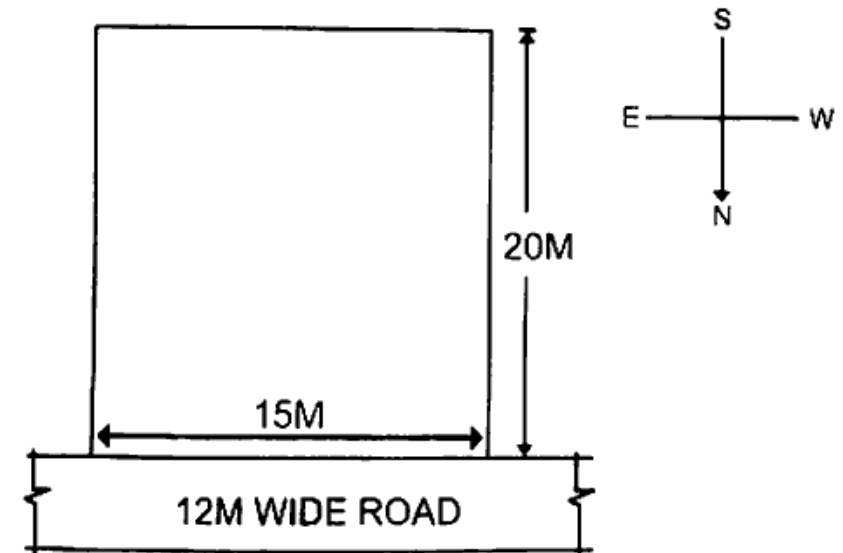
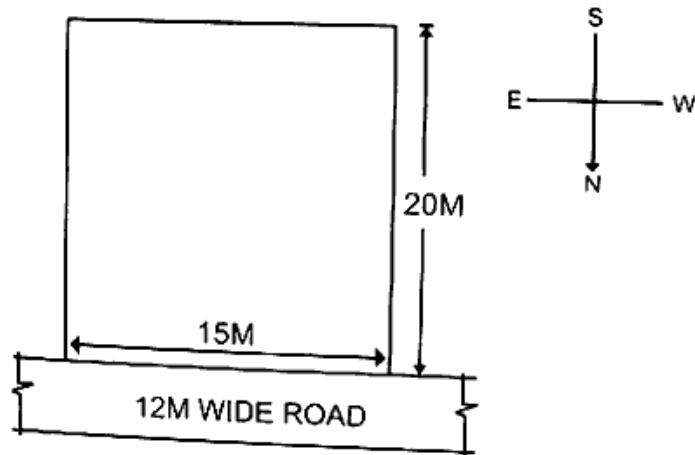


Fig - 1

ब्लॉक बोर्ड का इस्तेमाल करते हुए वास्तुविद् के लिए एक दिशायन कक्ष वाले घर का त्री आयामी मॉडल बनाइए, जिसमें की साईट में गार्ड कमरा, रोड, पेड़, विद्युत बल्ब पोस्ट इत्यादी दर्शाईए। साईट का माप 15 मीटर X 20 मीटर है। मॉडल बनाने के लिए सुविधानुसार स्केल का चयन करें। साईट डीटेल के लिए आकृति - 1 को देखें।



आकृति - 1

OR(अथवा)

Make a 3D - model using mount board of a duplex for a cinestar with site development showing site features on suitable scale. The size of the plot is 10m X 15m. Refer fig - 2 for site detail.

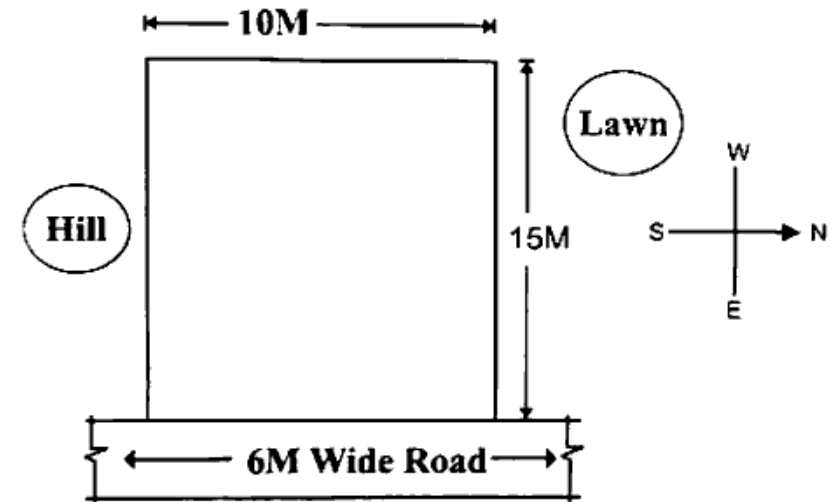


Fig. - 2

माउन्ट बोर्ड का इस्तेमाल करते हुए फिल्मकार के लिए डुप्लेक्स त्री आयामी मॉडल बनाइए, जिसमें की साईट को दर्शाते हुए, पुरे साईट को विकसित किजिए। इसके लिए अपने सुविधानुसार स्केल का चयन करें। प्लाट का आकार

10 मीटर X 15 मीटर है। साइट डिटेल् के लिए
आकृति - 2 को देखें।

